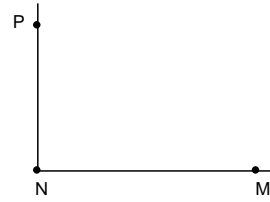
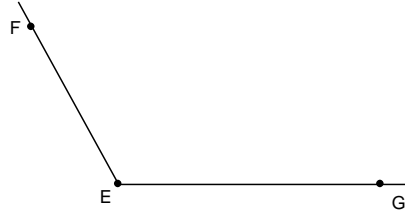
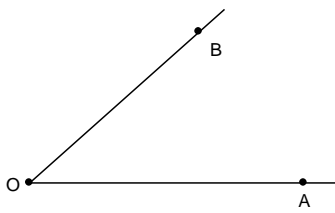




FIȘĂ DE LUCRU – UNGHIURI

Clasa a V-a – Anul școlar 2017-2018



$\angle AOB$  – unghi ascuțit

$\angle FEG$  – unghi obtuz

$\angle MNP$  – unghi drept

Vârful **O**

Vârful **E**

Vârful **N**

Laturile **OA** și **OB**

Laturile **EG** și **EF**

Laturile **NM** și **NP**

**Notează tu unghiurile de mai jos! Citește cum l-ai notat! Ce fel de unghi este?**

**Care este vârful și care sunt laturile?**

